

제 4 교시

탐구 영역(사회)

성명 수험번호 1

1. (가)의 입장에서 볼 때, (나)의 ㉠에 들어갈 내용으로 가장 적절한 것은?

(가)	인간은 누구나 선하고 옳은 것을 추구하고 악하고 옳지 않은 것을 멀리하려는 선의지를 가지고 있다. 이러한 선의지에 따르는지의 여부에 따라 행위의 옳고 그름을 판단해야 한다.
(나)	 <p>선생님! 어떤 행위가 도덕적인 행위인가요?</p> <p>(㉠)가 도덕적인 행위입니다.</p>

- ① 사람들의 칭찬을 받기 위한 행위
- ② 자기만족을 위해 솔선수범하는 행위
- ③ 선한 동기보다 좋은 결과를 중시하는 행위
- ④ 선한 의도를 가지고 선행을 실천하는 행위
- ⑤ 타인의 이익보다 자신의 이익을 추구하는 행위

2. (가)의 대화 중 을의 진술을 (나)의 도덕적 추론 형식으로 정리할 때, ㉠에 들어갈 진술로 가장 적절한 것은? [3점]

(가)	<p>갑: 피의자로부터 자백을 받아내기 위해서라면 폭력적인 방법을 사용할 수도 있어.</p> <p>을: 아니야. 인권은 모든 사람에게 보장되어야 해. 수사 과정에서 폭력적인 방법을 사용하는 것은 옳지 않아.</p>
(나)	<p>도덕 원리: <input type="text"/> ㉠ <input type="text"/></p> <p>사실 판단: 수사 과정에서 폭력적인 방법을 사용하는 것은 인권을 침해하는 것이다.</p> <p>도덕 판단: 수사 과정에서 폭력적인 방법을 사용하는 것은 옳지 않다.</p>

- ① 폭력적인 방법은 옳지 않다.
- ② 인권을 침해하는 것은 옳지 않다.
- ③ 수사 과정에서 폭력을 사용해서는 안 된다.
- ④ 피의자의 인권을 보장하는 것은 옳지 않다.
- ⑤ 일부 사람들의 인권만을 보장하는 것이 옳다.

3. 다음 대화에서 을이 가져야 할 바람직한 태도를 <보기>에서 고른 것은?

<p>갑: 왜 쓰레기를 함부로 버리는 거니?</p> <p>을: 네가 무슨 상관이야! 내 자리니까 내가 하고 싶은 대로 할 자유가 있다고!</p> <p>갑: 청소하는 친구들이 너 때문에 힘들잖아. 적어도 남에게 피해를 주진 말아야지.</p>

— < 보 기 > —

<p>ㄱ. 자신의 행동이 가져올 문제점을 인식해야 한다.</p> <p>ㄴ. 자신의 행동에는 책임이 따름을 깨달아야 한다.</p> <p>ㄷ. 자신의 생각과 일치하는 주장만 받아들여야 한다.</p> <p>ㄹ. 자신이 누릴 수 있는 자유에는 한계가 없음을 알아야 한다.</p>

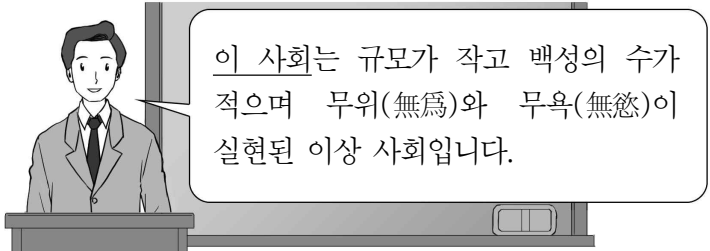
- ① ㄱ, ㄴ ② ㄱ, ㄷ ③ ㄴ, ㄷ ④ ㄴ, ㄹ ⑤ ㄷ, ㄹ

4. (가)의 입장에서 (나)의 A에게 제시할 조언으로 가장 적절한 것은?

(가)	사회 구성원이 인간으로서 기본적인 삶을 유지할 수 있도록 최소한의 필요를 충족시키는 분배를 해야 한다.
(나)	○○시의 △△자선단체에서 근무하는 A는 연말에 모금된 불우 이웃 돕기 성금을 어떻게 분배해야 할지 고민하고 있다.

- ① 모든 시민들에게 균등하게 분배해야 합니다.
- ② 나이가 많은 사람에게 우선적으로 분배해야 합니다.
- ③ 직업이 있는 사람에게 우선적으로 분배해야 합니다.
- ④ 가장 빈곤한 사람에게 우선적으로 분배해야 합니다.
- ⑤ 부양가족이 적은 사람에게 우선적으로 분배해야 합니다.

5. 그림은 도덕 수업 시간의 한 장면이다. 밑줄 친 ‘이 사회’의 모습에 대한 설명으로 옳은 것은? [3점]



이 사회는 규모가 작고 백성의 수가 적으며 무위(無爲)와 무욕(無慾)이 실현된 이상 사회입니다.

- ① 시장이 번성하여 물자가 자유롭게 교환된다.
- ② 엄격한 법 집행을 통해 사회 정의가 구현된다.
- ③ 다양한 복지 정책을 통해 생활수준이 향상된다.
- ④ 인의(仁義)의 덕을 쌓은 왕이 백성들을 다스린다.
- ⑤ 백성들이 자연의 순리(順理)에 따라 소박하게 산다.

6. 갑은 부정, 을은 긍정의 대답을 할 질문으로 옳은 것은? [3점]

갑: 정부의 정의롭지 못한 정책에 대해 시민은 불복종할 수 있다고 생각합니다.
 을: 동의합니다. 단, 부정적인 정책을 바로잡기 위한 시민 불복종은 비폭력적이어야만 정당화될 수 있습니다.
 갑: 그렇지 않습니다. 정의 실현에 도움이 된다면 때로는 폭력적인 방법도 사용할 필요가 있습니다.
 을: 아닙니다. 정의 실현을 명목으로 폭력적인 방법을 사용한다면 그것은 또 다른 폭력을 야기할 뿐입니다.

- ① 시민 불복종은 도덕적으로 정당화될 수 있는가?
- ② 시민 불복종은 사회 정의 실현에 기여할 수 있는가?
- ③ 시민 불복종은 모든 정책에 대해 저항하는 행위인가?
- ④ 시민 불복종은 부정적인 정책을 바꾸기 위한 수단인가?
- ⑤ 시민 불복종은 어떠한 경우에도 비폭력적이어야 하는가?

7. ㉠에 들어갈 내용으로 가장 적절한 것은?

정의의 원칙	
1	모든 사람들은 표현의 자유, 신체의 자유 등 기본적 자유를 누려야 한다.
2	<ul style="list-style-type: none"> ○ 사회적·경제적 불평등은 가장 불리한 여건에 있는 사람들에게 최대의 이익이 보장되는 경우에만 허용된다. ○ 사회적 지위나 직책을 얻을 수 있는 기회가 공정하게 보장되어야 한다.

이러한 정의의 원칙에서 강조하고 있는 내용은 무엇인가요?

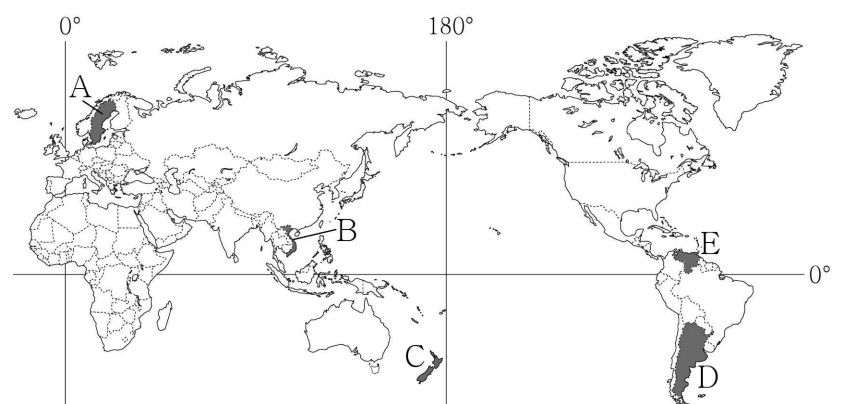
- ① 표현의 자유를 제한해야 함을 강조합니다.
- ② 사회적 약자를 배려해서는 안 된다는 점을 강조합니다.
- ③ 기본적 자유를 모두가 평등하게 누려야 함을 강조합니다.
- ④ 재화를 모든 사람에게 똑같이 분배해야 함을 강조합니다.
- ⑤ 경제적 불평등은 어떤 경우에도 허용될 수 없음을 강조합니다.

8. 다음 글은 어느 다국적 기업의 생산 활동을 설명한 것이다. ㉠, ㉡의 이유로 옳은 것은?

○○ 휴대 전화는 미국의 캘리포니아주에 있는 △△기업에서 기획하고 디자인하였다. 하지만 이 휴대 전화의 ㉠ 주요 부품들은 미국, 일본, 한국, 독일 등에서 생산된 것이다. 이러한 부품들은 ㉡ 중국에 위치한 공장에서 완제품으로 조립되어 전 세계로 수출되고 있다.

- | | |
|---|--|
| <ul style="list-style-type: none"> ㉠ ① 낮은 임금 ② 낮은 임금 ③ 풍부한 원료 ④ 우수한 생산 기술 ⑤ 우수한 생산 기술 | <ul style="list-style-type: none"> ㉡ ① 풍부한 원료 ② 우수한 생산 기술 ③ 낮은 임금 ④ 낮은 임금 ⑤ 풍부한 원료 |
|---|--|

9. 다음은 서울에 사는 두 학생의 대화 내용이다. ㉠에 들어갈 가장 적절한 국가를 지도의 A~E에서 고른 것은? [3점]



- ① A
- ② B
- ③ C
- ④ D
- ⑤ E

10. 다음은 지리 수업 장면이다. 교사의 질문에 옳게 답한 학생을 고른 것은?

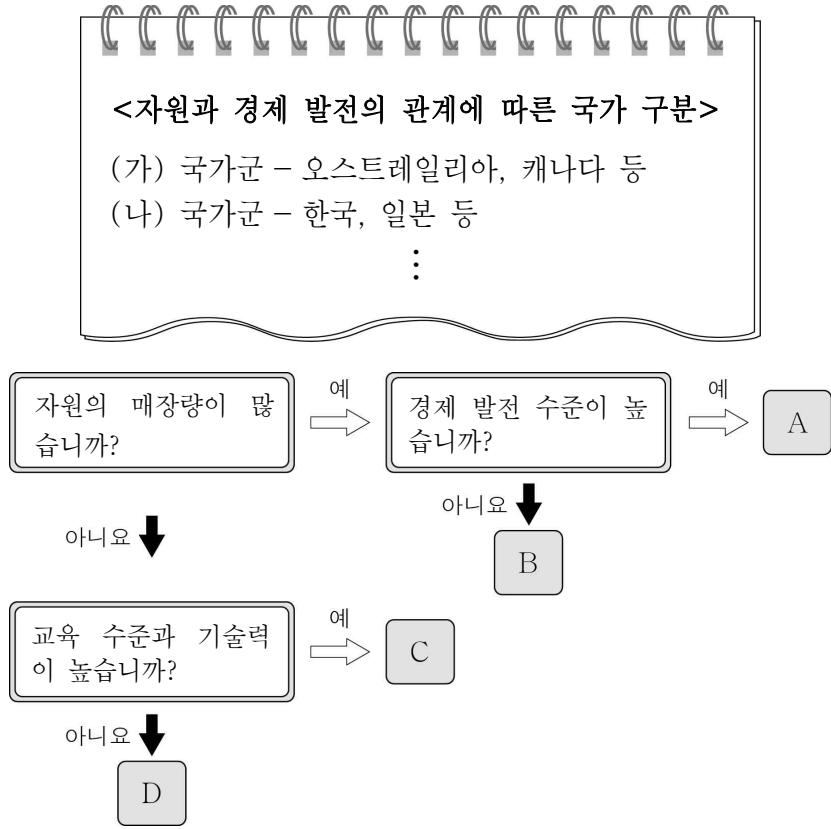
(가) 기후 지역의 주민 생활

- 주민들은 얇은 천으로 온몸을 감싸는 옷차림을 한다.
- 전통 가옥은 지붕이 평평하고 창문이 작은 흙벽돌집이다.
- 주민들은 전통적으로 양이나 염소를 유목하며 생활한다.

(가) 기후 지역의 특색을 말해 볼까요?

- ① 갑
- ② 을
- ③ 병
- ④ 정
- ⑤ 무

11. (가), (나) 국가군에 해당하는 것을 그림의 A ~ D에서 고른 것은? [3점]



- | | | | | | |
|---|-----|-----|---|-----|-----|
| | (가) | (나) | | (가) | (나) |
| ① | A | C | ② | A | D |
| ③ | B | C | ④ | C | A |
| ⑤ | D | B | | | |

12. 다음 자료의 ㉠~㉣에 들어갈 내용으로 옳은 것은? [3점]

<○○ 로컬푸드 매장>

로컬푸드 운동이 지구를 살립니다!
- 우리 지역에서 생산된 먹거리를 소비합시다 -

이 운동을 통해 먹 거리의 운송 거리가 ㉠ 지면서 화석 연료 사용량이 ㉡ 하고, 그 결과 이산화탄소 배출량이 ㉢ 하기 때문입니다.

기자: 로컬푸드 운동이 지구 온난화를 완화한다고 하셨는데 그 이유가 무엇인가요?
시민운동가: 이 운동을 통해 먹 거리의 운송 거리가 ㉠ 지면서 화석 연료 사용량이 ㉡ 하고, 그 결과 이산화탄소 배출량이 ㉢ 하기 때문입니다.

- | | | | | | | |
|---|----|----|----|---|----|----|
| | ㉠ | ㉡ | ㉢ | ㉠ | ㉡ | ㉢ |
| ① | 길어 | 감소 | 증가 | ② | 길어 | 증가 |
| ③ | 짧아 | 감소 | 감소 | ④ | 짧아 | 감소 |
| ⑤ | 짧아 | 증가 | 증가 | | | |

13. 다음 자료의 ㉠과 관련된 지형으로 옳은 것은?



사진은 스위스의 융프라우 전망대 (3,454m)에서 찍은 알레치 빙하입니다. ㉠계곡을 메운 거대한 얼음 덩어리는 산 아래로 천천히 이동하면서 주변을 침식하여 지형을 변화시킨답니다.



- | | | |
|---------|---------|--------|
| ① 삼각주 | ② U자곡 | ③ 버섯바위 |
| ④ 석회 동굴 | ⑤ 주상 절리 | |

14. 다음 글에서 부각된 문화의 속성에 대한 진술로 가장 적절한 것은?

스마트폰의 발명은 우리 사회의 다양한 분야에 영향을 주고 있다. 스마트폰을 이용해 연락을 쉽게 주고받게 되면서 각종 동호회가 활성화되었고, 스마트폰 앱을 활용해 배달 음식을 주문하는 사례도 크게 증가하였다. 또한 스마트폰으로 인터넷 강의를 듣게 되면서 교육 시장이 확대되었다.

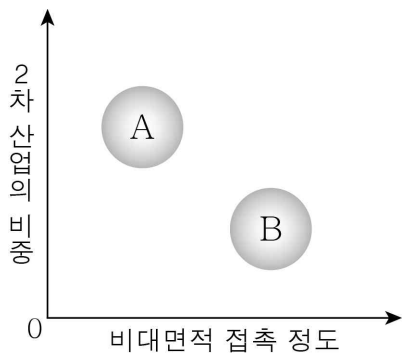
- 문화는 학습을 통해 습득된다.
- 문화는 상징을 통해 다음 세대로 계승된다.
- 문화는 한 사회 구성원들이 공유하는 것이다.
- 문화는 여러 구성 요소들이 상호 연관되어 있다.
- 문화는 다른 사람의 행동을 예측할 수 있도록 해준다.

15. 밑줄 친 ㉠~㉣에 대한 설명으로 옳은 것은? [3점]

가난한 농부의 ㉠아들로 태어난 갑은 ㉡가족의 뒷바라지와 본인의 노력으로 ㉢○○대학교 신문방송학과에 입학하였다. 대학 졸업 이후 오랫동안 꿈꿔왔던 □□일보 ㉣신문기자로 입사한 후 능력을 인정받아 최우수 기자상을 수상하였다. 유연한 기회에 ㉤방송사 예능 프로그램에 출연한 갑은 시청자들로부터 개그맨으로서 재능이 있다고 호평을 받게 되었다. 갑은 신문기자를 그만두고 개그맨에 도전할지 ㉥심각하게 고민하고 있다.

- ㉠은 성취 지위, ㉡은 귀속 지위이다.
- ㉢은 의도적으로 만들어진 집단이다.
- ㉣은 사회화를 목적으로 설립된 기관이다.
- ㉤은 1차 집단이다.
- ㉥은 갑의 역할 갈등이다.

16. 그림은 A, B의 특징을 비교한 것이다. 이에 대한 옳은 설명을 <보기>에서 고른 것은? (단, A, B는 각각 산업 사회, 정보 사회 중 하나이다.) [3점]



* 0에서 멀어질수록 그 정도나 영향력이 큼

- < 보 기 >
- ㄱ. A는 B에 비해 직업의 종류가 다양하다.
 - ㄴ. A는 B에 비해 지식과 정보의 중요성이 크다.
 - ㄷ. B는 A에 비해 늦게 시작되었다.
 - ㄹ. B는 A에 비해 다품종 소량 생산 방식의 비중이 높다.

- ① ㄱ, ㄴ ② ㄱ, ㄷ ③ ㄴ, ㄷ ④ ㄴ, ㄹ ⑤ ㄷ, ㄹ

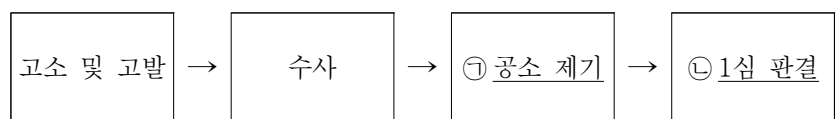
17. 표의 (가), (나)에 대한 옳은 설명을 <보기>에서 고른 것은? (단, (가), (나)는 전형적인 대통령제와 의원 내각제 중 하나이다.) [3점]

질문	정부 형태	
	(가)	(나)
국민이 선거로 대통령을 선출하는가?	아니요	예
의회는 내각을 불신임할 수 있는가?	예	아니요

- < 보 기 >
- ㄱ. 미국의 정부 형태는 (가)에 해당한다.
 - ㄴ. (나)에서 행정부의 수반은 법률안 거부권을 갖는다.
 - ㄷ. (나)에서 의회 의원은 행정부의 각료를 겸직할 수 없다.
 - ㄹ. (가)에서는 (나)와 달리 행정부 수반의 임기가 보장된다.

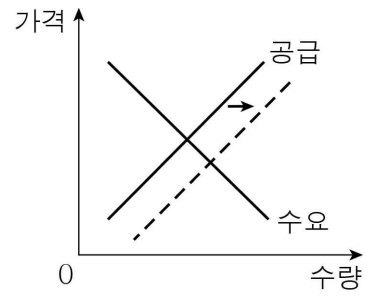
- ① ㄱ, ㄴ ② ㄱ, ㄷ ③ ㄴ, ㄷ ④ ㄴ, ㄹ ⑤ ㄷ, ㄹ

18. 그림은 범죄 사건을 다루는 절차의 일부를 나타낸 것이다. 이에 대한 설명으로 옳은 것은?



- ① 형사 재판이 진행된다.
- ② ㉠은 피해자가 할 수 있다.
- ③ ㉠ 이후에는 변호인의 도움을 받을 수 없다.
- ④ ㉡으로 형이 확정된다.
- ⑤ ㉡은 대법원에서 이루어진다.

19. 그림은 A재의 공급 변동을 나타낸 것이다. 이와 같은 공급 변동 요인으로 옳은 것은?



- ① A재 생산 기술의 발전
- ② A재 공급자 수의 감소
- ③ A재에 대한 선호 증가
- ④ A재의 원자재 가격 상승
- ⑤ A재의 미래 가격 상승 예상

20. (가)에 들어갈 학생의 옳은 답변을 <보기>에서 고른 것은? [3점]



- < 보 기 >
- ㄱ. 수출이 불리해집니다.
 - ㄴ. 외채 상환 부담이 증가합니다.
 - ㄷ. 우리나라를 찾는 미국인 관광객의 비용 부담이 커집니다.
 - ㄹ. 미국에 유학 중인 자녀를 둔 가정의 경제적 부담이 커집니다.

- ① ㄱ, ㄴ ② ㄱ, ㄷ ③ ㄴ, ㄷ ④ ㄴ, ㄹ ⑤ ㄷ, ㄹ

※ 확인 사항
 ○ 답안지의 해당란에 필요한 내용을 정확히 기입(표기)했는지 확인하십시오.