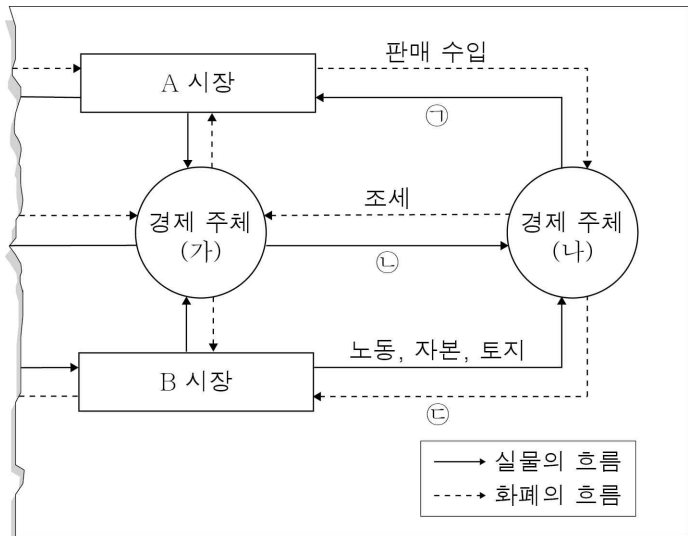


제 4 교시

사회탐구 영역(경제)

성명 수험번호 3

1. 그림은 국민 경제 순환의 일부이다. 이에 대한 설명으로 옳은 것은?



- ① ㉠은 공공재, ㉡은 재화와 서비스이다.
- ② ㉢에는 임금, 이자, 지대가 들어갈 수 있다.
- ③ A 시장은 생산 요소 시장, B 시장은 생산물 시장이다.
- ④ (가)는 B 시장의 수요자로 이윤의 극대화를 추구한다.
- ⑤ (나)는 A 시장의 공급자로 사회적 후생의 극대화를 추구한다.

2. 자료에 나타난 경제적 유인과 같은 유형의 사례를 <보기>에서 고른 것은?

여러 음식점이 테이블을 공유해서 영업하는 ○○푸드코트는 자리를 오래 차지하는 손님으로 인해 다른 손님들이 오래 기다리거나 심지어 가버리는 경우도 많았다. 이에 오른쪽 그림과 같은 새로운 영업 전략을 시행하자 매출액이 증가했다.

<안내문>

음식 주문 영수증에 인쇄된 시간으로부터 40분 이내에 식사를 마치고 다른 손님에게 자리를 양보해주시신 분에게는 고급 소프트 아이스크림을 드립니다.

○○푸드코트

- < 보 기 >
- ㄱ. 음주 운전자에게 벌금 부과
 - ㄴ. 올림픽 입상자에게 포상금 수여
 - ㄷ. 학점이 우수한 재학생에게 장학금 지급
 - ㄹ. 버스 정류장에서 흡연하는 사람에게 과태료 부과

- ① ㄱ, ㄴ ② ㄱ, ㄷ ③ ㄴ, ㄷ ④ ㄴ, ㄹ ⑤ ㄷ, ㄹ

3. 자료에 대한 분석 및 추론으로 옳은 것은? [3점]

갑과 을은 스마트폰 A, B 중 어느 하나를 구입하기 위해 각자 자신이 중요하게 생각하는 평가 항목 세 가지를 선정하여 좋으면 5점, 보통이면 3점, 나쁘면 1점으로 표시하고 함께 점수가 더 높은 스마트폰을 구입하기로 하였다. 아래 표는 갑과 을이 각각 작성한 평가표이고, 평가표에 따라 평가한 결과 갑은 하나의 스마트폰을 선택할 수 있었지만 을은 선택할 수 없어 곤란했다.

<갑의 평가표>			<을의 평가표>		
평가 항목	스마트폰		평가 항목	스마트폰	
	A	B		A	B
가격	5점	3점	가격	()	3점
성능	()	1점	성능	()	3점
내구성	()	1점	디자인	1점	()
합계	11점	5점	합계	11점	()

- ① 을은 A의 가격과 성능에 모두 3점을 주었을 것이다.
- ② 을은 B의 디자인에 1점을 주었을 것이다.
- ③ 갑이 가격을 고려하지 않는다면 B를 선택할 것이다.
- ④ 을이 성능과 디자인만 고려한다면 A를 선택할 것이다.
- ⑤ 두 사람이 공통적으로 선정한 평가 항목만 고려한다면 갑과 을의 선택 결과는 일치할 것이다.

4. 그림은 갑국의 경제 뉴스이다. 갑국 ○○상품 시장의 변화에 대한 예측으로 옳은 것은? (단, ○○상품은 수요 및 공급 법칙을 따른다.)

양식 김 풍년으로 양식 김 가격이 하락하고 있다고 하는데요. 양식 김으로 만드는 ○○상품 시장에 영향을 주는 새로운 소식이 더 있다고 합니다.

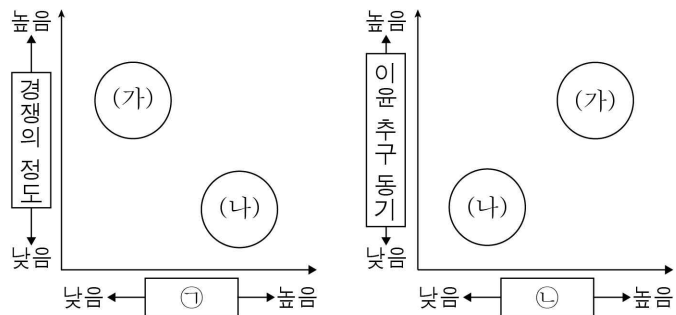
저녁 NEWS

○○상품이 맛있고 건강에도 좋다는 입소문이 퍼지며 ○○상품을 구입하려는 사람들이 늘어나고 있습니다.

○○상품

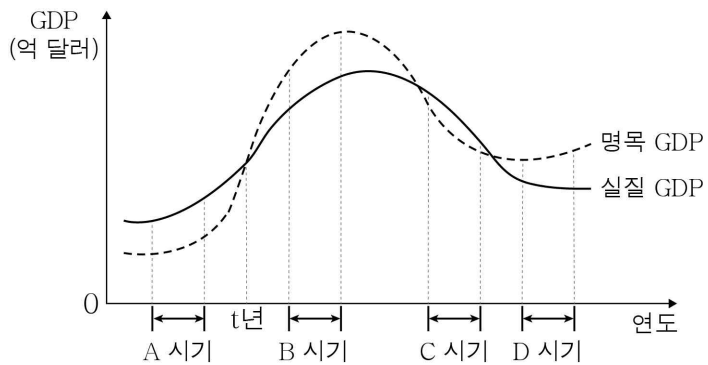
- | | | |
|---|--------------|---------------|
| | <u>균형 가격</u> | <u>균형 거래량</u> |
| ① | 알 수 없음 | 증가 |
| ② | 알 수 없음 | 감소 |
| ③ | 상승 | 증가 |
| ④ | 상승 | 감소 |
| ⑤ | 하락 | 알 수 없음 |

5. 그림은 경제 체제 (가), (나)의 특징을 각각 다른 기준으로 나타낸 것이다. 이에 대한 설명으로 옳은 것은? (단, (가), (나)는 각각 계획 경제 체제, 시장 경제 체제 중 하나이다.)



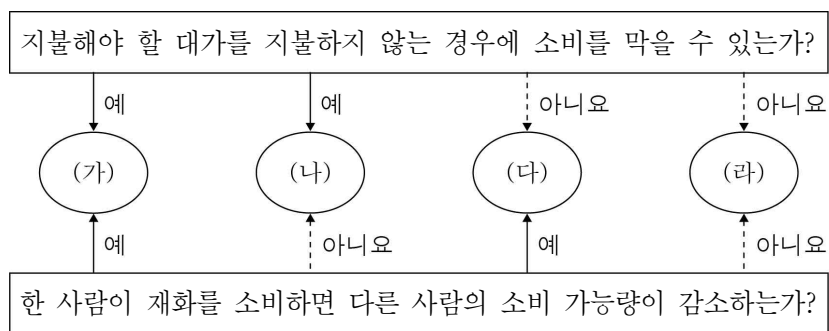
- ① ㉠에는 '경제 활동 자유의 보장 정도'가 들어갈 수 있다.
- ② ㉡에는 '형평성 추구의 정도'가 들어갈 수 있다.
- ③ (나)는 원칙적으로 생산 수단의 사적 소유를 부정한다.
- ④ (가)와 달리 (나)는 '보이지 않는 손'의 기능을 신뢰한다.
- ⑤ 정부의 경제 개입 정도는 (나)보다 (가)에서 더 크다.

6. 그림은 갑국 국내 총생산의 변화를 나타낸 것이다. 이에 대한 설명으로 옳은 것은? (단, 물가 수준은 GDP 디플레이터로 계산하며, 기준 연도는 t년이다.) [3점]



- ① t년 이후 물가는 지속적으로 상승하였다.
- ② C 시기는 스태그플레이션 상황에 해당한다.
- ③ 통화량을 줄이는 정책은 B 시기보다 C 시기에 더 적합하다.
- ④ 경기 부양을 위한 확대 재정 정책은 D 시기보다 B 시기에 더 적합하다.
- ⑤ A, B 시기 모두에서 경제 규모가 지속적으로 성장하였다.

7. 그림은 재화 (가)~(라)를 분류한 것이다. 이에 대한 옳은 설명을 <보기>에서 고른 것은?



- < 보 기 >
- ㄱ. 공공재는 (가)에 해당한다.
 - ㄴ. '막히는 유료 도로'는 (나)의 사례이다.
 - ㄷ. (다)는 '공유 자원의 비극' 문제가 발생할 수 있다.
 - ㄹ. (라)는 시장에서 충분히 공급되지 않는다.

- ① ㄱ, ㄴ ② ㄱ, ㄷ ③ ㄴ, ㄷ ④ ㄴ, ㄹ ⑤ ㄷ, ㄹ

8. 다음 글에 대한 분석 및 추론으로 옳은 것은? (단, 갑국의 쌀은 수요 및 공급 법칙을 따른다.)

현재 갑국에서는 쌀 1kg을 4달러에 거래하고 있고 초과 수요나 초과 공급은 없다. 그런데 갑국 정부는 국민의 다수를 차지하는 (㉠)의 생활 안정을 위해 ㉡쌀 1kg의 가격이 3달러를 넘지 못하도록 하는 정책을 검토하고 있다고 발표하였다.

- ① ㉠에는 '쌀을 생산하는 농민'이 들어갈 수 있다.
- ② ㉡은 최저 가격제이다.
- ③ ㉡은 실효성이 없을 것이다.
- ④ ㉡을 시행할 경우 쌀의 시장 거래량은 감소할 것이다.
- ⑤ ㉡을 시행할 경우 갑국 쌀 시장에서 초과 공급 현상이 발생할 것이다.

9. 자료에 대한 분석 및 추론으로 옳은 것은? [3점]

○○고등학교에서 하나뿐인 매점을 운영하는 갑은 매출액을 극대화하기 위해 A재, B재의 가격을 변경하였다. 표는 A재, B재의 가격 변동에 따른 갑의 예상과 실제 매출액의 변동률을 나타내고 있다. 단, 갑은 A재, B재만 판매하고 있으며 두 재화는 연관재 관계가 아니다.

구분	가격 변동률	예상 매출액 변동률	실제 매출액 변동률
A재	10%	5%	-5%
B재	-5%	15%	0%

- ① 갑의 매출액 극대화 전략은 성공하였다.
- ② 갑은 A재의 판매량이 증가할 것으로 예상하였다.
- ③ B재의 실제 판매량 증가분은 예상보다 적었다.
- ④ B재의 수요는 가격에 대해 비탄력적인 것으로 나타났다.
- ⑤ 갑은 A재, B재의 수요가 모두 가격에 대해 탄력적일 것이라고 예상하였다.

10. 그림은 A국의 경제 문제를 해결하기 위한 관계 장관 회의 장면이다. 이에 대한 설명으로 옳은 것은?



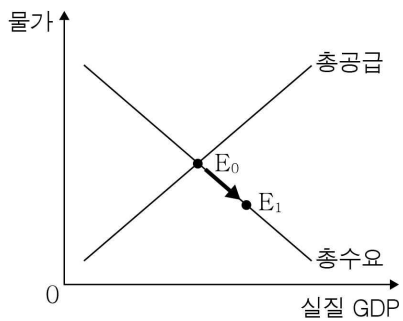
- ① 갑은 재할인을 인상 정책에 동의할 것이다.
- ② 갑은 국공채 매각 정책에 대해 동의할 것이다.
- ③ 을은 정부의 긴축 재정 정책에 찬성할 것이다.
- ④ 갑과 달리 을은 확대 금융 정책을 제시하고 있다.
- ⑤ 갑과 을은 모두 호경기보다 불경기에 적합한 정책을 주장하고 있다.

11. 다음은 갑의 일기 중 일부이다. 밑줄 친 ㉠, ㉡에 대한 설명으로 옳은 것은? [3점]

오늘 병원에서 ㉠ 독감 예방 접종을 받았다. 비싸고 아팠지만 독감에 걸리지 않을 것 같아 안심이었다. 오후에는 집에서 편히 쉬려는데 집 근처에 있는 ㉡ 가구 제작 공장의 소음 때문에 제대로 쉴 수 없었다.

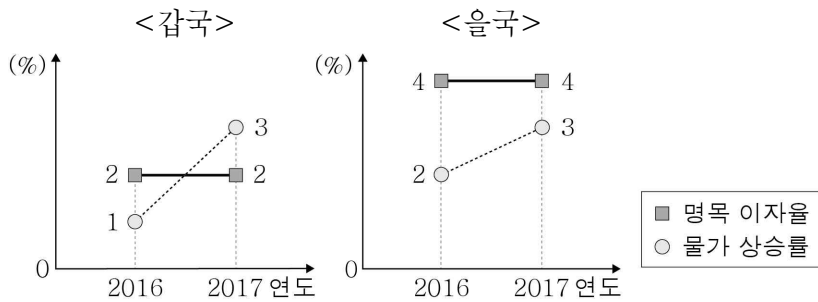
- ① ㉠의 소비로 발생하는 사회적 편익은 사적 편익보다 크다.
- ② ㉠의 소비에 보조금을 지급하면 독감 예방 접종량은 감소한다.
- ③ ㉡으로 인해 발생한 사적 비용은 사회적 비용보다 크다.
- ④ ㉡을 통해 공급된 가구는 사회적 최적 수준보다 높은 가격으로 거래된다.
- ⑤ ㉠은 부정적 외부 효과, ㉡은 긍정적 외부 효과를 유발한다.

12. 그림은 갑국의 총수요와 총공급을 나타낸 것이다. 갑국의 국민 경제 균형점 E₀를 E₁으로 이동시키는 요인으로 옳은 것은?



- ① 순수출이 증가하였다.
- ② 정부 지출을 확대하였다.
- ③ 중앙은행이 기준 금리를 인상하였다.
- ④ 주력 산업에서 기술 혁신이 일어났다.
- ⑤ 주요 수입 원자재의 가격이 상승하였다.

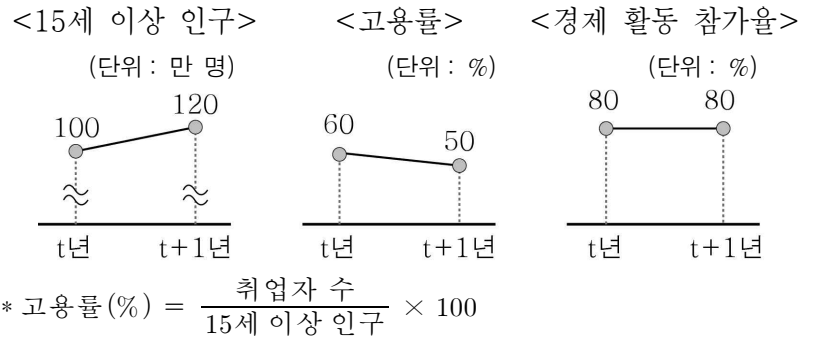
13. 그림은 갑국과 을국의 명목 이자율과 물가 상승률의 변화를 나타낸 것이다. 이에 대한 옳은 분석을 <보기>에서 고른 것은? [3점]



< 보 기 >
 ㄱ. 2016년 을국에서는 예금보다 현금 보유가 유리했다.
 ㄴ. 2017년 갑국에서 실질 이자율은 음(-)의 값을 갖는다.
 ㄷ. 2017년 갑국과 을국의 물가 수준은 동일하다.
 ㄹ. 2017년 갑국과 을국의 실질 이자율은 모두 전년 대비 하락했다.

- ① ㄱ, ㄴ ② ㄱ, ㄷ ③ ㄴ, ㄷ ④ ㄴ, ㄹ ⑤ ㄷ, ㄹ

14. 그림은 갑국의 고용 지표 변화를 나타낸 것이다. t년 대비 t+1년의 변화에 대한 옳은 설명을 <보기>에서 고른 것은? [3점]

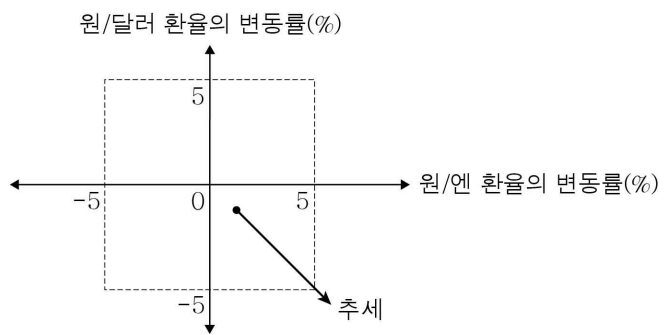


$$* \text{고용률}(\%) = \frac{\text{취업자 수}}{\text{15세 이상 인구}} \times 100$$

< 보 기 >
 ㄱ. 비경제 활동 인구는 증가하였다.
 ㄴ. 실업자 수는 증가하였다.
 ㄷ. 취업자 수는 감소하였다.
 ㄹ. 실업률은 하락하였다.

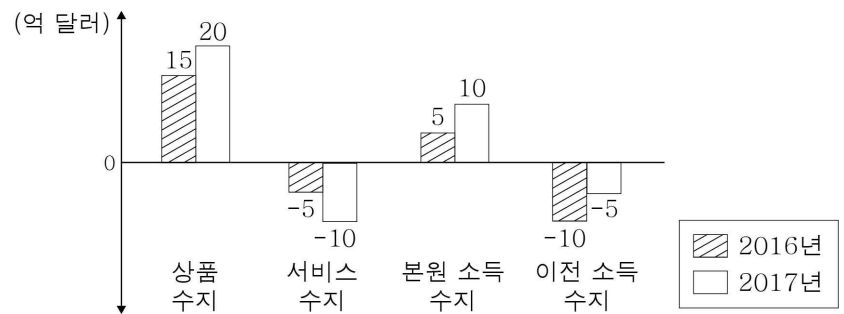
- ① ㄱ, ㄴ ② ㄱ, ㄷ ③ ㄴ, ㄷ ④ ㄴ, ㄹ ⑤ ㄷ, ㄹ

15. 그림과 같은 환율 변동 추세가 지속될 경우에 대한 설명으로 옳은 것은? [3점]



- ① 원화 대비 엔화의 가치가 하락한다.
- ② 달러화 대비 원화의 가치가 하락한다.
- ③ 우리나라 대미 수출품의 달러화 표시 가격은 하락한다.
- ④ 우리나라 기업의 달러화 표시 외채 상환 부담은 감소한다.
- ⑤ 일본으로부터 원자재를 수입하는 우리나라 기업의 부담은 감소한다.

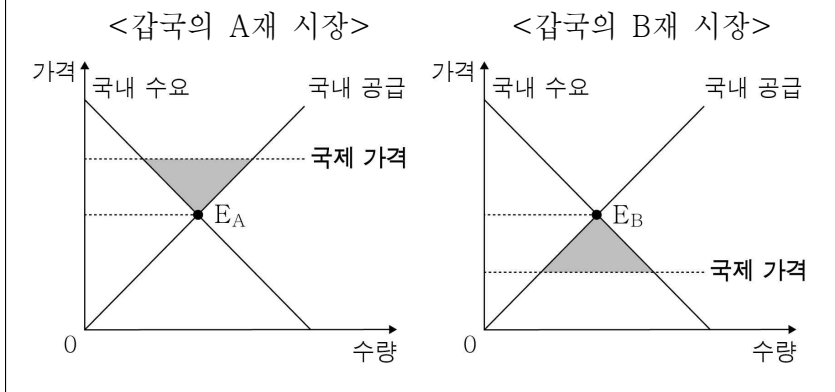
16. 그림은 갑국의 경상 수지 변화를 나타낸 것이다. 2016년 대비 2017년의 변화에 대한 설명으로 옳은 것은?



- ① 상품 수출 증가액이 상품 수입 증가액보다 적었다.
- ② 서비스 사용에 따른 외화의 유출액은 5억 달러 증가하였다.
- ③ 해외 투자에 따른 배당금을 기록하는 항목의 흑자액은 증가하였다.
- ④ 경상 수지의 변화는 달러화 대비 갑국 화폐 가치의 하락 요인이다.
- ⑤ 대가 없이 이루어진 거래를 기록하는 항목에서 적자가 심화되었다.

17. 자료는 자유 무역을 실시한 이후 갑국의 시장 상황이다. 이에 대한 설명으로 옳은 것은? [3점]

그림에서 E_A , E_B 는 각각 자유 무역 이전 갑국의 A재와 B재 시장의 균형점이고, 음영 부분은 자유 무역 이후 추가적으로 발생한 사회적 잉여를 나타낸다. 단, 갑국의 수출은 국제 가격에 영향을 미치지 못하고, 수입품은 국제 가격 수준에서 무제한 공급된다.



- ① A재 시장에서 소비자 잉여는 증가한다.
- ② B재의 시장 가격은 자유 무역 이전보다 하락한다.
- ③ A재는 수입되고, B재는 수출된다.
- ④ A재와 달리 B재의 소비량은 감소한다.
- ⑤ A재와 B재의 생산량은 모두 증가한다.

18. 자료에 대한 옳은 설명을 <보기>에서 고른 것은? [3점]

A국에서는 갑~병만 살고 있다. 표는 A국에서 소득세 부과 방식 (가), (나)를 적용할 경우 갑~병의 과세 후 소득 비중을 나타낸 것이다. 단, (가)와 (나)는 각각 누진세제와 비례세제 중 하나이고, 갑~병의 과세 대상 소득은 각각 1만 달러, 2만 달러, 3만 달러이다.

(단위: %)

구분	갑	을	병
(가) 적용 시 과세 후 소득 비중	80	70	60
(나) 적용 시 과세 후 소득 비중	80	80	80

* 과세 후 소득 비중(%) = $\frac{\text{과세 후 소득}}{\text{과세 대상 소득}} \times 100$

- < 보 기 >
- ㄱ. (가)를 적용할 경우에 과세 후 소득은 을보다 병이 크다.
 - ㄴ. (나)를 적용할 경우 갑~병에게 부과될 세액은 같다.
 - ㄷ. 소득 재분배 효과는 (나)보다 (가)를 적용할 경우 더 클 것이다.
 - ㄹ. 병의 조세 저항은 (가)보다 (나)를 적용할 경우 더 클 것이다.

- ① ㄱ, ㄴ ② ㄱ, ㄷ ③ ㄴ, ㄷ ④ ㄴ, ㄹ ⑤ ㄷ, ㄹ

19. 그림은 갑의 자산과 부채 상태를 자산 관리 앱에 입력한 결과이다. 이에 대한 옳은 설명을 <보기>에서 고른 것은?

자산		부채	
항목	평가 금액	항목	평가 금액
현금	50만 원	주택 구입 자금 대출	5,000만 원
저축성 예금	250만 원	신용 카드 사용 대금	50만 원
주식	500만 원		
부동산(주택)	1억 원		
합계	1억 800만 원	합계	5,050만 원

- < 보 기 >
- ㄱ. 금융 자산 중 높은 안전성을 특징으로 하는 상품의 비중이 가장 크다.
 - ㄴ. 시세 차익과 배당 수익을 기대할 수 있는 금융 상품에 투자하고 있다.
 - ㄷ. 자산에서 실물 자산이 차지하는 비중은 금융 자산이 차지하는 비중보다 작다.
 - ㄹ. 신용 카드 사용 대금을 현금으로 전액 상환하면 자산과 부채가 동시에 감소한다.

- ① ㄱ, ㄴ ② ㄱ, ㄷ ③ ㄴ, ㄷ ④ ㄴ, ㄹ ⑤ ㄷ, ㄹ

20. 자료에 대한 분석으로 옳은 것은? [3점]

표는 X재와 Y재만을 생산하는 갑국과 을국이 각자 비교 우위 상품만을 특화하여 생산한 후 일정한 교역 조건으로 두 나라 간에만 교역한 결과이다. 단, 갑국과 을국의 생산 가능 곡선은 모두 직선이며, 교역 전 갑국과 을국의 X재 최대 생산 가능량은 각각 10단위이다. 갑국과 을국은 효율적으로 생산하며, 생산된 재화는 모두 소비된다.

구분	교역 전	교역 후
갑국의 X재 1단위 소비의 기회비용	Y재 1단위	Y재 2단위

구분	갑국	을국
교역 후 소비량	X재 5단위 Y재 10단위	5단위 20단위

- ① 교역 조건은 X재 1단위당 Y재 1단위이다.
- ② 갑국은 Y재 생산, 을국은 X재 생산에 비교 우위가 있다.
- ③ 을국은 교역 후 Y재 1단위 소비의 기회비용이 감소하였다.
- ④ 갑국은 교역 전 X재 5단위와 Y재 10단위를 동시에 생산할 수 있다.
- ⑤ 교역 전 Y재의 최대 생산 가능량은 갑국이 10단위, 을국이 30단위이다.

※ 확인 사항
○ 답안지의 해당란에 필요한 내용을 정확히 기입(표기)했는지 확인하시오.